

1. Punkt E leży na boku CD prostokąta $ABCD$, przy czym

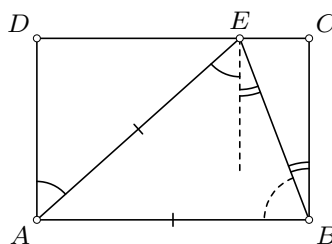
$$\sphericalangle DAE + \sphericalangle EBC = \sphericalangle ABE.$$

Wykaż, że $AB \geq AD$.

Rozwiązanie

Sposób I

Z równości kątów naprzemianległych wynika, że $\sphericalangle DAE + \sphericalangle EBC = \sphericalangle AEB$ (rys. 1). Dana w treści zadania równość przybiera więc postać $\sphericalangle AEB = \sphericalangle ABE$, skąd $AB = AE$.



rys. 1

Należy więc uzasadnić, że $AE \geq AD$. To wynika na przykład z tego, że najdłuższym bokiem trójkąta prostokątnego ADE jest jego przeciwprostokątna AE .

Uwaga

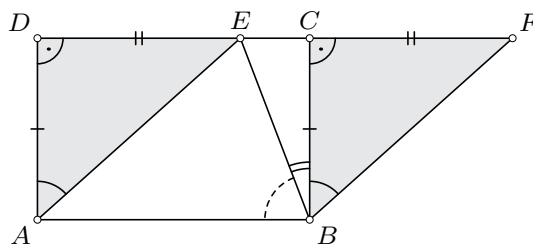
Równość $AB = AD$ zachodzi tylko gdy punkty E i D się pokrywają. Przy założeniu, że punkt E nie jest żadnym z końców odcinka CD , zachodzi nierówność $AB > AD$.

Sposób II

Oznaczmy przez F taki punkt na przedłużeniu odcinka CD , że $CF = DE$ (rys. 2). Wówczas trójkąty prostokątne ADE oraz BCF są przystające (cecha bok–kąt–bok), a zatem

$$\sphericalangle DAE + \sphericalangle EBC = \sphericalangle CBF + \sphericalangle EBC = \sphericalangle EBF.$$

Dana równość kątów oznacza więc, że $\sphericalangle ABE = \sphericalangle EBF$, czyli BE jest dwusieczną kąta ABF .



rys. 2

Ponadto $EF = EC + CF = EC + DE = DC = AB$ oraz $EF \parallel AB$, skąd wynika, że czworokąt $ABFE$ jest równoległobokiem. Przekątna BE tego równoległoboku jest dwusieczną jego kąta wewnętrznego ABF , więc równoległobok $ABFE$ jest rombem. Do zakończenia rozwiązania pozostaje zauważyć, że bok rombu ma długość większą lub równą wysokości tego rombu.

2. Każde pole tablicy 5×5 pomalowano albo na czerwono, albo na niebiesko. Okazało się, że w każdym wierszu tej tablicy liczba czerwonych pól jest taka sama, a w każdych dwóch kolumnach tej tablicy liczby niebieskich pól są różne. Wyznacz łączną liczbę niebieskich pól w całej tablicy. Podaj wszystkie możliwości.

Rozwiązanie

Odpowiedź: Łączna liczba niebieskich pól jest równa **10** lub **15**.

Skoro w każdym wierszu tablicy znajduje się ta sama liczba czerwonych pól, to również w każdym wierszu znajduje się ta sama liczba niebieskich pól — oznaczmy tę liczbę przez n . Wówczas szukana łączna liczba niebieskich pól w całej tablicy jest równa $5n$.

Możliwe liczby niebieskich pól w jednej kolumnie tablicy to 0, 1, 2, 3, 4, 5. Skoro w każdych dwóch kolumnach znajduje się inna liczba niebieskich pól, to liczby niebieskich pól w kolumnach tablicy są pięcioma spośród powyższych sześciu liczb. Zatem dokładnie jedna z powyższych sześciu liczb nie jest liczbą niebieskich pól w żadnej kolumnie tablicy — oznaczmy tę liczbę przez x . Wówczas łączna liczba niebieskich pól w całej tablicy jest równa


$$0 + 1 + 2 + 3 + 4 + 5 - x = 15 - x.$$

Wynika z tego, że

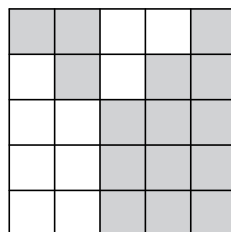
$$5n = 15 - x, \quad \text{czyli} \quad n = 3 - \frac{x}{5}.$$

Aby uzyskana w ten sposób liczba n była całkowita, liczba x musi być podzielna przez 5, czyli $x = 0$ albo $x = 5$. Dla $x = 0$ mamy $n = 3$ i $5n = 15$, a dla $x = 5$ mamy $n = 2$ i $5n = 10$.

Bezpośrednio sprawdzamy, że w obydwu przypadkach istnieją kolorowania pól tablicy spełniające warunki zadania (rys. 3–4, przy czym zaciemnione pola to te, które należy pomalować na niebiesko).



rys. 3



rys. 4

3. Dany jest trójkąt ABC , w którym $AC = BC$ i $\sphericalangle ACB = 150^\circ$. Punkt A' jest symetryczny do punktu A względem prostej BC , punkt B' jest symetryczny do punktu B względem prostej AC , a punkt C' jest symetryczny do punktu C względem prostej AB . Udowodnij, że trójkąt $A'B'C'$ jest równoboczny.

Rozwiązanie

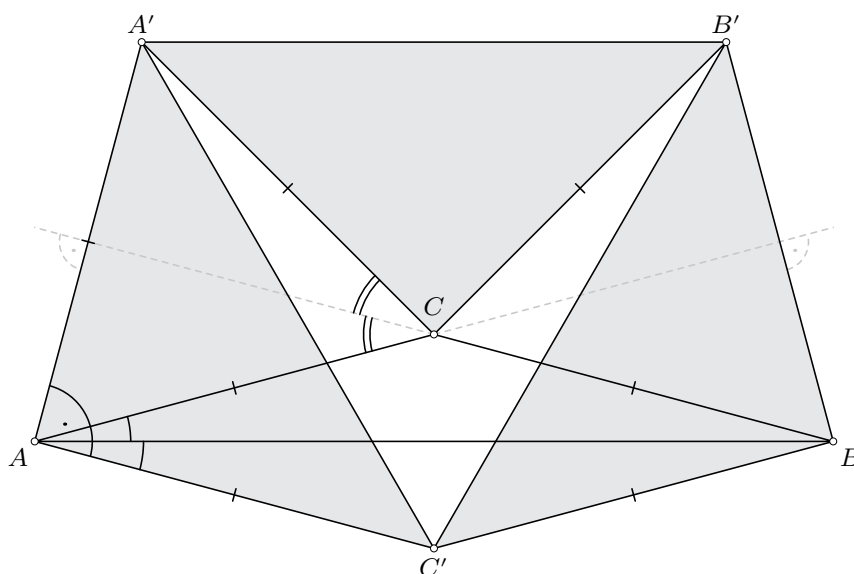
Zauważmy, że $\sphericalangle BAC = \sphericalangle ABC = 15^\circ$ oraz $AC = BC = A'C = B'C = AC' = BC'$ (rys. 5). Kąt zewnętrzny przy C w trójkącie ABC ma miarę 30° , więc $\sphericalangle ACA' = 2 \cdot 30^\circ = 60^\circ$. W połączeniu z $AC = A'C$ oznacza to, że trójkąt $AA'C$ jest równoboczny i $AA' = AC$. Ponadto

$$\sphericalangle A'AC' = \sphericalangle A'AC + \sphericalangle BAC + \sphericalangle BAC' = 60^\circ + 15^\circ + 15^\circ = 90^\circ.$$

W pełni analogicznie uzasadniamy, że $BB' = BC$ oraz $\sphericalangle B'BC' = 90^\circ$.

Zauważmy wreszcie, że

$$\sphericalangle A'CB' = \sphericalangle ACB + \sphericalangle A'CB + \sphericalangle ACB' - 360^\circ = 3 \cdot 150^\circ - 360^\circ = 90^\circ.$$



rys. 5

Z poczynionych obserwacji wynika, że $A'CB'$, $A'AC'$, $B'BC'$ są przystającymi trójkątami prostokątnymi równoramionymi (cecha bok–ką–bok). W konsekwencji $A'B' = A'C' = B'C'$, co było do udowodnienia.

4. Czy istnieją takie dodatnie liczby całkowite a oraz b , że

$$\sqrt[3]{a} + \sqrt[3]{b} = \sqrt[3]{2025}?$$

Uwaga. Symbol $\sqrt[3]{x}$ oznacza *pierwiastek trzeciego stopnia z x* , czyli taką liczbę rzeczywistą y , że $y^3 = x$.

Rozwiązanie

Zauważmy, że $2025 = 3^4 \cdot 5^2 = 3^3 \cdot 75$. Wobec tego

$$\sqrt[3]{2025} = \sqrt[3]{3^3 \cdot 75} = 3\sqrt[3]{75} = \sqrt[3]{75} + 2\sqrt[3]{75} = \sqrt[3]{75} + \sqrt[3]{2^3 \cdot 75} = \sqrt[3]{75} + \sqrt[3]{600}.$$

Wystarczy więc przyjąć $a = 75$ oraz $b = 600$.

Uwaga

Para $\{a, b\} = \{75, 600\}$ jest jedyną parą dodatnich liczb całkowitych spełniającą daną równość.

5. Liczbę całkowitą nazwiemy *olimpijską*, jeśli można ją uzyskać z liczby 1 w wyniku wykonania pewnej liczby operacji polegających na zwiększeniu liczby o jej cyfrę jedności. Początkowymi liczbami olimpijskimi są więc 1, 2, 4, 8, 16, 22, 24, 28, 36, ... Wykaż, że kwadrat liczby olimpijskiej jest liczbą olimpijską.

Rozwiązanie

Niech a_k oznacza k -tą liczbę olimpijską, czyli $a_1 = 1$, $a_2 = 2$, $a_3 = 4$, $a_4 = 8$, $a_5 = 16$ itd. Zauważmy, że cyfry jedności liczb olimpijskich różnych od 1 powtarzają się z okresem 4 i są równe kolejno 2, 4, 8, 6. To oznacza, że

$$a_{k+4} = a_k + (2 + 4 + 6 + 8) = a_k + 20,$$

gdyż wykonując cztery kolejne operacje, wykorzystamy w pewnej kolejności wszystkie cztery składniki 2, 4, 8, 6. Skoro $a_2 = 2$, to $a_6 = 22$, $a_{10} = 42$, $a_{14} = 62$, ... są wszystkimi dodatnimi liczbami całkowitymi dającymi resztę 2 przy dzieleniu przez 20.

Analogicznie uzasadniamy, że wśród dodatnich liczb całkowitych

- $a_3, a_7, a_{11}, a_{15}, \dots$ to wszystkie liczby dające resztę 4 przy dzieleniu przez 20;
- $a_4, a_8, a_{12}, a_{16}, \dots$ to wszystkie liczby dające resztę 8 przy dzieleniu przez 20;
- $a_5, a_9, a_{13}, a_{17}, \dots$ to wszystkie liczby dające resztę 16 przy dzieleniu przez 20.

Tym samym uzasadniliśmy następujący fakt.

Liczba większa od 1 jest olimpijska dokładnie wtedy, gdy przy dzieleniu przez 20 daje jedną z reszt 2, 4, 8, 16.

Ponieważ $a_1^2 = 1 = a_1$ jest liczbą olimpijską, więc pozostaje udowodnić, że kwadraty liczb dających resztę 2, 4, 8 lub 16 przy dzieleniu przez 20 również dają jedną z tych reszt przy dzieleniu przez 20. W tym celu zauważmy, że

- jeśli $a = 20n + 2$, to $a^2 = (20n + 2)^2 = 400n^2 + 80n + 4 = 20 \cdot (20n^2 + 4n) + 4$;
- jeśli $a = 20n + 4$, to $a^2 = (20n + 4)^2 = 400n^2 + 160n + 16 = 20 \cdot (20n^2 + 8n) + 16$;
- jeśli $a = 20n + 8$, to $a^2 = (20n + 8)^2 = 400n^2 + 320n + 64 = 20 \cdot (20n^2 + 16n + 3) + 4$;
- jeśli $a = 20n + 16$, to $a^2 = (20n + 16)^2 = 400n^2 + 640n + 256 = 20 \cdot (20n^2 + 32n + 12) + 16$.

Ponieważ liczby dające resztę 4 lub 16 przy dzieleniu przez 20 są olimpijskie, więc dowód jest zakończony.

Uwaga

Drugą część rozwiązania można przedstawić w postaci bardziej zwartej i mniej wymagającej rachunkowo przy użyciu *kongruencji*. Dla liczb całkowitych a , b oraz liczby całkowitej $m \geq 1$ zapisujemy $a \equiv b \pmod{m}$ jeżeli m jest dzielnikiem liczby $a - b$, czyli innymi słowy — liczby a oraz b dają tę samą resztę przy dzieleniu przez m . Stosując własności kongruencji, możemy zapisać:

- jeśli $a \equiv 2 \pmod{20}$, to $a^2 \equiv 2^2 \equiv 4 \pmod{20}$;
- jeśli $a \equiv 4 \pmod{20}$, to $a^2 \equiv 4^2 \equiv 16 \pmod{20}$;
- jeśli $a \equiv 8 \pmod{20}$, to $a^2 \equiv 8^2 \equiv 64 \equiv 4 \pmod{20}$;
- jeśli $a \equiv 16 \pmod{20}$, to $a \equiv -4 \pmod{20}$ i w konsekwencji $a^2 \equiv (-4)^2 \equiv 16 \pmod{20}$.

Więcej informacji o kongruencjach i ich własnościach można odnaleźć na przykład w broszurze *Matematyczne seminarium olimpijskie, cz. 1*, dostępnej na stronie omj.edu.pl/uploads/attachments/seminaria_1.pdf (strony 20–25).